

Antonio Riccio

5

Diario di BORDO

PER UNA
VALUTAZIONE
FORMATIVA
RICCA DI FEEDBACK

→ **VERIFICHE
DIAGNOSTICHE**
PER RILEVARE LA
SITUAZIONE INIZIALE
DELLA CLASSE

→ **VERIFICHE IN
ITINERE**
PER ACCOMPAGNARE
E REGOLARE IL
PERCORSO DIDATTICO
PER TUTTO L'ANNO

STORIA

GEOGRAFIA

1 I popoli che hai studiato l'anno scorso hanno dato vita a grandi civiltà, ognuna sorta in una regione specifica del mondo. Osserva la carta e inserisci i numeri al posto giusto.

1 Civiltà sumera e babilonese

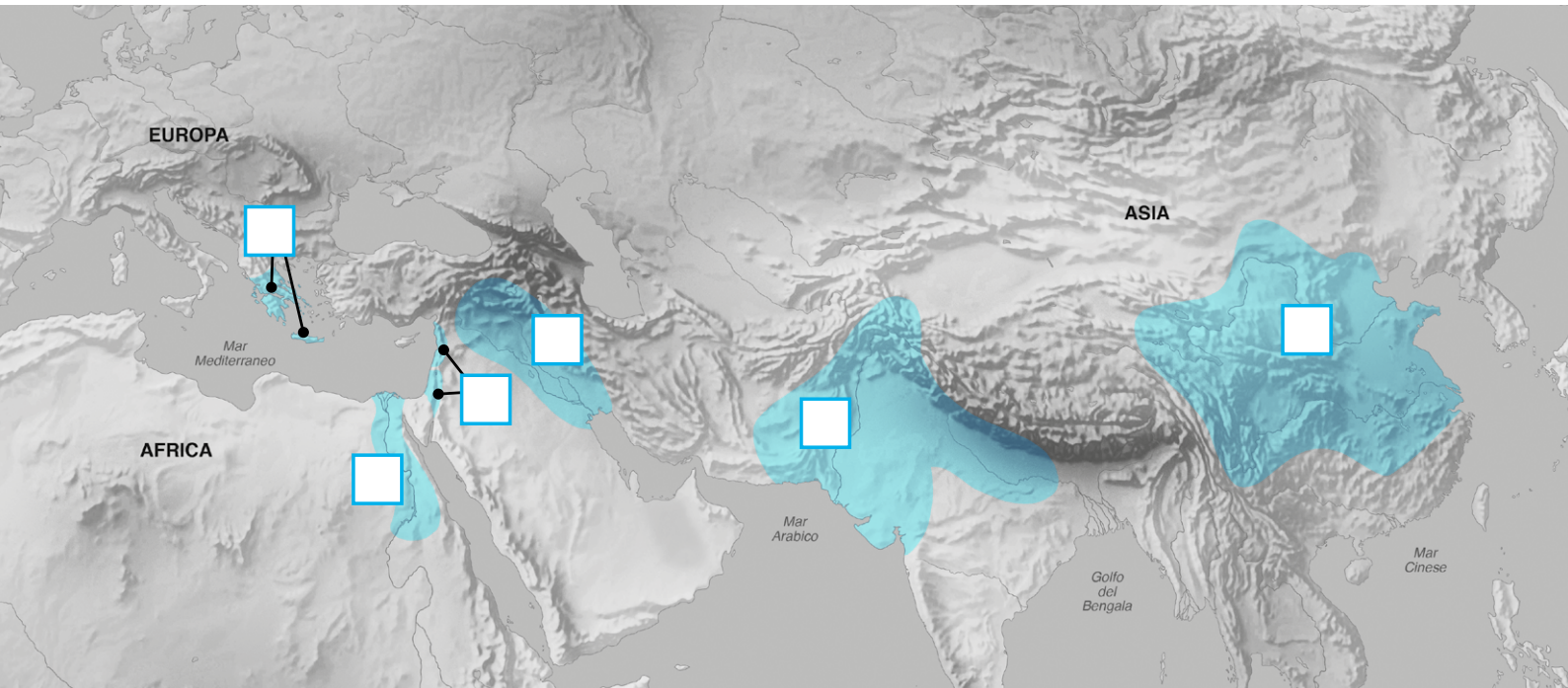
2 Civiltà egizia

3 Civiltà dell'Indo e vedica

4 Civiltà cinese

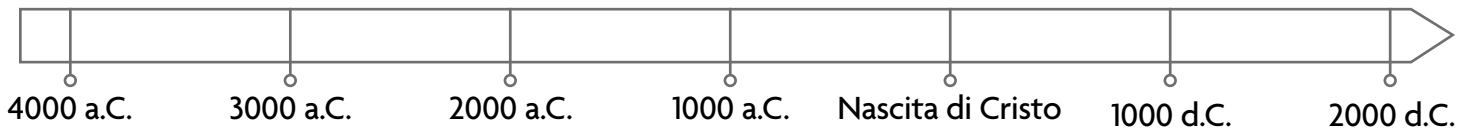
5 Civiltà fenicia ed ebraica

6 Civiltà cretese e micenea

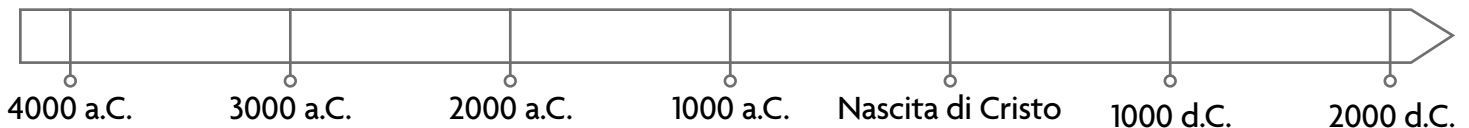


2 Colora sulla linea del tempo il periodo di sviluppo della civiltà indicata.

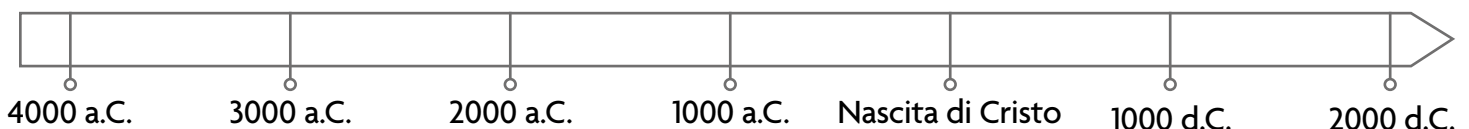
- Le civiltà della Mesopotamia si svilupparono tra il 4000 a.C. e il 500 a.C.



- La civiltà egizia sorse nel 3100 a.C. e scomparve verso la fine del I secolo a.C.



- La civiltà cretese si sviluppò a partire dal II millennio a.C. fino al 1450 a.C.



3 Cerchia la parola corretta.

- I Fenici furono gli inventori della scrittura **fonetica** • **cuneiforme**.
- Gli Ebrei credevano in un solo Dio: erano **politeisti** • **monoteisti**.
- Gli Egizi scrivevano su rotoli ricavati dalla pianta di **argilla** • **papiro**.
- I Cinesi furono gli inventori della **porpora** • **seta**.
- Gli Assiri erano conosciuti per le **macchine da guerra** • **tavole di leggi scritte**.
- Ai Sumeri è attribuita l'invenzione **della ruota** • **della carta**.
- Il Codice di Hammurabi era un insieme **di leggi** • **di poesie**.
- La civiltà cretese si dedicò principalmente **al commercio marittimo** • **alla lavorazione del vetro**.



4 Completa il testo con le seguenti parole.

steppe • *IV* • *Dori* • *nomadi* • *locali* • *II* • *Anatolia* • *Ittiti* • *Grecia* • *Achei* • *ferro* •
bronzo • *coste* • *Indoeuropei* • *Assiri*

A partire dal millennio a.C. le civiltà mesopotamiche, egizia, cinese, indiane e mediterranee sorsero lungo grandi fiumi o in prossimità delle

Nelle dell'Asia vivevano invece popoli, dediti all'allevamento. Essi si spinsero verso ovest, in Europa, e verso sud, in India: dagli storici sono stati definiti

Sapevano come lavorare il ed erano pertanto in grado di fabbricare armi più dure e resistenti di quelle in

Grazie a questa loro abilità riuscivano a conquistare con la forza le terre verso cui si spostavano. Col tempo la loro cultura finiva per fondersi con quella delle popolazioni e da ciò nasceva una importante civiltà.

Dal millennio a.C. popolazioni indoeuropee migrarono verso sud, fino a giungere in (l'attuale Turchia), dove nacque la civiltà degli, e in Mesopotamia, dove sorse la civiltà degli

Altri gruppi arrivarono in Europa centrale, per poi discendere anche in Italia e in

In quest'ultimo caso si stabilirono nel Peloponneso: erano gli e fondarono varie città fortificate, tra cui Micene.

A cavallo del 1200 e del 1100 a.C. la civiltà micenea scomparve, probabilmente ad opera di un altro popolo indoeuropeo che invase la regione: i

LA CIVILTÀ GRECA

1 Collega, alla causa indicata, solo gli effetti corrispondenti.

I Micenei si fondono con i Pelasgi.

Scompare l'uso della scrittura.

Ioni ed Eoli emigrano dalla terraferma alle isole dell'Egeo.

Termina la civiltà micenea.

CAUSA:
I Dori invadono la penisola greca.

Terminano i commerci tra la Grecia e i popoli mediterranei.

Gli Achei fondano Micene.

Ioni ed Eoli si stabiliscono sulle coste del Peloponneso.

2 Indica con X se le affermazioni sono Vere (V) o False (F).

- I Dori erano un popolo proveniente dal sud del Mediterraneo. V F
- Essi erano abili guerrieri e utilizzavano armi in ferro e carri da guerra. V F
- I Dori giunsero e distrussero le città dei popoli che abitavano la Grecia. V F
- I Dori imposero la propria cultura, ciò diede origine alla civiltà greca. V F
- A partire dal 1200 a.C. sorsero le prime città-stato, dette *poleis*. V F
- Tutte erano riunite sotto un unico re di origine dorica. V F
- Ogni polis comprendeva anche la campagna al di fuori delle mura cittadine. V F

3 Leggi la definizione e scrivi di quale parola si tratta scegliendo tra l'elenco seguente.

astu • ginnasio • stadio • chora • acropoli • agorà • polis • portico

..... = zona di campagna appartenente alla polis

..... = parte alta della polis, su cui sorgevano gli edifici più importanti

..... = zona della polis in cui erano presenti le case, le botteghe e il mercato

..... = piazza della polis destinata alle riunioni e al mercato cittadini

LA CIVILTÀ GRECA

4 Leggi le affermazioni e indica se si riferiscono a Sparta (scrivendo **S**) o ad Atene (scrivendo **A**).

- Sono detti *iloti* e sono schiavi appartenenti alle popolazioni sottomesse dai Dori.
- Le classi sociali in città sono quelle dei cittadini, dei *meteci* e degli schiavi.
- Gli stranieri liberi, per poter lavorare in città, devono pagare una tassa.
- Le donne possono partecipare alla vita pubblica e praticare sport.
- I maschi adulti possono partecipare all'assemblea detta *ecclesia*.
- Il governo della città è gestito da due assemblee: la *gherusia* e l'*apella*.
- I *perieci* sono gli abitanti dei territori controllati dalla città.
- I cittadini si riuniscono in assemblea per eleggere gli *arconti*.
- Il governo della città è affidato a tutti i cittadini.

5 Cerchia la parola corretta.

- Il territorio prevalentemente **montuoso** • **pianeggiante** della Grecia e il clima mite permettevano la coltivazione di ulivi e **viti** • **cereali**.
- Gli artigiani greci erano abili nel realizzare **vasi** • **carri**, che venivano apprezzati in tutto il Mediterraneo.
- I Greci utilizzavano **il baratto** • **la moneta** negli scambi commerciali.
- Il commercio via mare **divenne** • **non divenne** nel tempo la loro attività principale.
- Tra XI e X sec. a.C. si ebbe la prima grande migrazione dei **Greci** • **Persiani**.
- In essa la popolazione si stabilì sulle coste **dell'Anatolia** • **dell'Africa** e sulle isole dell'Egeo.
- Le comunità che emigravano fondavano una nuova polis, la quale **interrompeva** • **conservava** il legame con la sua terra d'origine.
- Ci fu una seconda **colonizzazione** • **invasione** greca tra l'VIII e il VII secolo a.C. In quel periodo le zone interessate furono principalmente le coste dell'Italia meridionale, della Sicilia, della Francia e **della Spagna** • **dell'Egitto**.

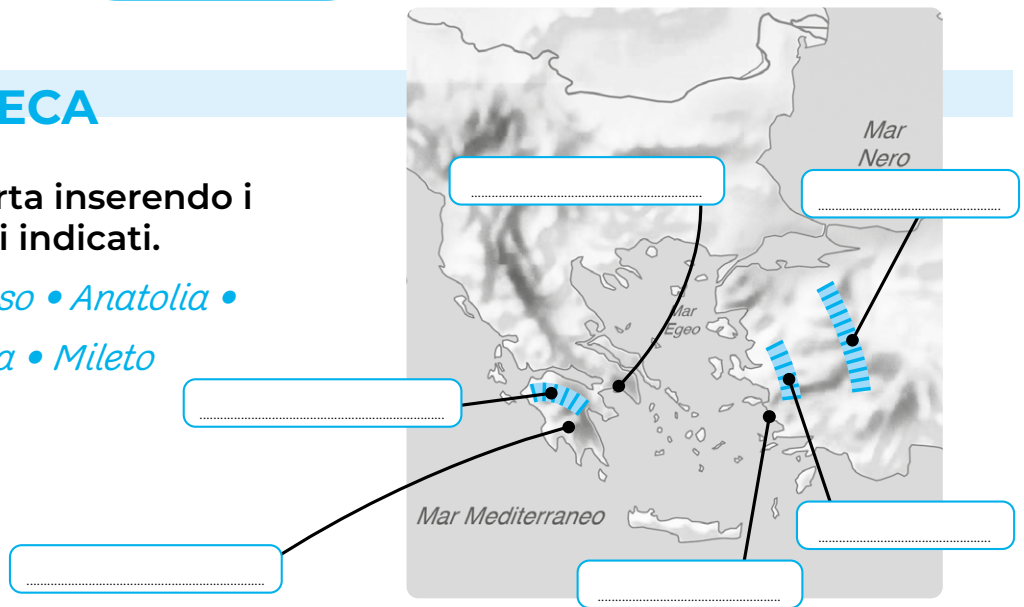
6 Metti i seguenti eventi in ordine cronologico numerando da 1 a 7.

- La flotta ateniese guidata da Temistocle distrugge la flotta persiana vicino Salamina.
- Sparta forma la Lega del Peloponneso; Atene invece la Lega di Delo.
- I Persiani vengono sconfitti dagli Ateniesi nella pianura di Maratona.
- Mileto e le colonie della Ionia si ribellano all'Impero persiano.
- Gli Spartani bloccano i Persiani al passo delle Termopili.
- L'esercito degli Spartani vince su quello persiano a Platea.
- Atene viene sconfitta da Sparta nella guerra del Peloponneso.

LA CIVILTÀ GRECA

7 Completa la carta inserendo i nomi dei luoghi indicati.

*Atene • Peloponneso • Anatolia •
Sparta • Ionia • Mileto*



8 Completa il testo con le seguenti parole.

*Ade • panellenici • statua • colonne • simili • fedeli • sculture • Zeus • politeisti •
templi • sacerdoti • cella • Poseidone • oracoli*

I Greci adoravano vari dèi: erano

Nella religione greca, gli dèi erano, nelle sembianze, nei sentimenti e nei difetti, agli uomini. Tre erano i più importanti:, il dio del cielo;, il dio del mondo dei defunti;, il dio del mare. Creature immortali e in grado di punire gli uomini mediante le forze della natura, gli dèi erano venerati nei

Questi erano edifici maestosi in pietra, sorretti da alte e decorati con splendide e colori vivaci. Sorgevano sull'acropoli cittadina e accoglievano la, cioè la stanza in cui era situata la del dio, a cui solo i avevano accesso. I pregavano fuori, presso un altare davanti al tempio, su cui si eseguivano i sacrifici.

Esistevano poi i santuari, comuni a tutte le città greche, in cui vi erano gli, che erano sacerdoti in grado di "tradurre" il messaggio del dio agli uomini.

9 Scegli il completamento corretto della frase.

L'alfabeto greco derivava da quello

fenicio latino dorico egizio

I Greci inventarono anche lo studio

dell'astronomia della geometria della matematica della storia

Andare a teatro per assistere a commedie e tragedie serviva

a inventare nuovi spettacoli a far arrabbiare i cittadini
 a prendere decisioni sul governo della città a educare i cittadini

I MACEDONI E L'ELLENISMO

1 Indica se le affermazioni sono Vere (V) o False (F).

- Nel IV secolo a.C. i Macedoni vivevano in una regione a nord della Grecia. V F
- Essi si dedicavano principalmente all'agricoltura e all'artigianato. V F
- Nei secoli precedenti al IV i Macedoni si allearono sempre con Atene, contro Sparta. V F
- Una volta re, Filippo II intendeva conquistare le città greche e quelle persiane. V F
- Inizialmente Filippo II si dimostrò alleato delle poleis greche. V F
- Intimoriti da ciò, i Persiani dichiararono guerra alle poleis. V F
- Nel 338 a.C. a Cheronea i Macedoni batterono e distrussero l'esercito persiano. V F
- Filippo II riuscì a conquistare le città greche. V F

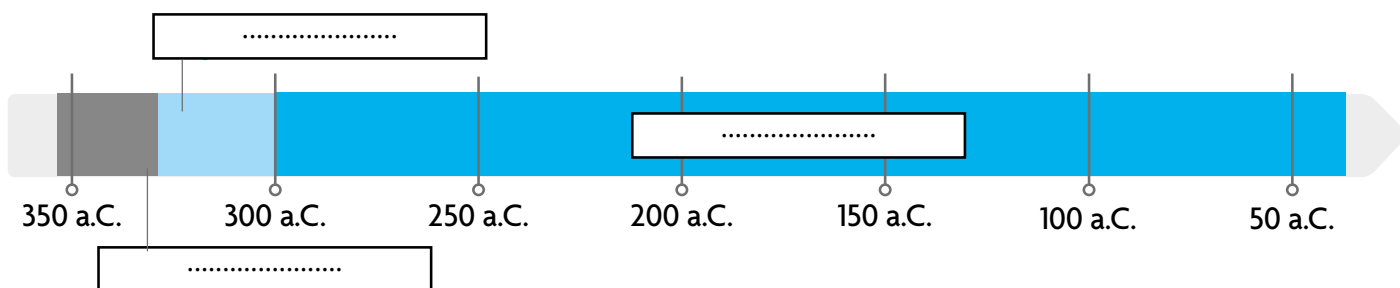
2 Rispondi.

- Chi fu soprannominato Magno?
- Cosa significa questa parola?

3 Inserisci le seguenti date negli eventi corretti. Poi completa la linea del tempo con le parole sottolineate.

336 a.C. • 332 a.C. • 331 a.C. • 323 a.C. • 301 a.C. • 31 a.C.

- : Alessandria d'Egitto viene fondata.
- : L'Impero macedone viene suddiviso nei quattro Regni ellenistici.
- : Il Regno d'Egitto è conquistato dai Romani.
- : Alessandro muore.
- : Alessandro sale al trono del Regno macedone.
- : Alessandro sconfigge Dario III a Gaugamela.



I MACEDONI E L'ELLENISMO

4 Cerchia la parola corretta.

- Con la sconfitta del re persiano **Dario III** • **Filippo II**, Alessandro conquistò **piccoli** • **vasti** territori e creò l'Impero macedone.
- L'impero era formato da popoli con tradizioni molto **diverse** • **simili** tra loro.
- Alessandro volle **fondere** • **separare** la cultura greca **con** • **da** quelle delle civiltà orientali: nacque così la civiltà **macedone** • **ellenistica**.
- La lingua **greca** • **persiana** si diffuse tra i popoli e fu adottata una **banconota** • **moneta** comune.
- Nei territori dell'impero sorsero grandi città, ispirate alle **poleis greche** • **città persiane**.
- La rete stradale dei **Greci** • **Persiani** e i porti del Mediterraneo favorirono lo sviluppo **dell'esercito** • **dei commerci**.
- La ricerca scientifica divenne **poco** • **molto** importante.
- L'arte di questo periodo era caratterizzata dal realismo e dalla rappresentazione **della perfezione** • **dei sentimenti** dei personaggi.

5 Collega ciascuna parola alla sua definizione.

FARO

Formazione di soldati disposti in sedici file, armati di scudo e lancia.

PELLA

Capitale dell'Impero macedone.

MUSEO

Lancia, lunga fino a 9 metri, usata dai soldati macedoni.

FALANGE

Torre in marmo, con lanterna in cima, posta davanti al porto di Alessandria d'Egitto.

ELLENO

Capitale del Regno macedone.

SARISSA

Edificio dedicato alle divinità protettrici delle arti e delle scienze, dove gli studiosi dialogavano e insegnavano.

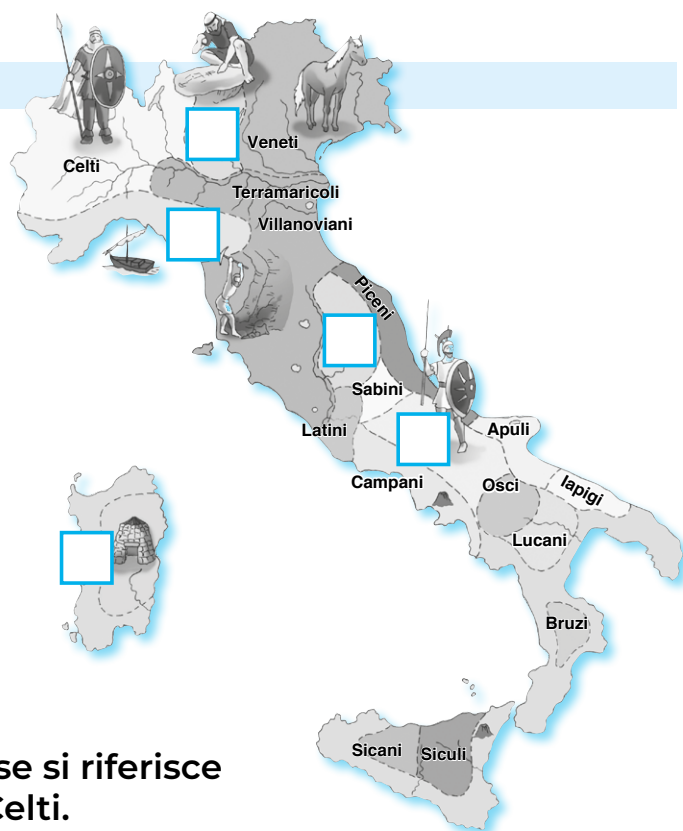
BABILONIA

Altro nome con cui nell'antichità veniva chiamato un Greco.

L'ANTICA ITALIA

1 Osserva la carta e inserisci i numeri al posto giusto.

- 1 Umbri
- 2 Sardi
- 3 Liguri
- 4 Sanniti
- 5 Camuni



2 Sottolinea di rosso l'affermazione se si riferisce ai Camuni; di blu se si riferisce ai Celti.

- Erano un popolo nato dalla fusione di Indoeuropei e popolazioni indigene dell'Italia.
- Provenivano dall'Europa centrale e si stabilirono tra Lombardia e Piemonte nel VI secolo a.C.
- Sono famosi per le numerose incisioni rupestri.
- Di essi sappiamo che si trasformarono da cacciatori ad allevatori e agricoltori.
- Erano in grado di lavorare i metalli.
- Erano abili guerrieri.
- Vivevano in villaggi fortificati vicino alle foreste.

3 Indica se le affermazioni sono Vere (V) o False (F).

- I Liguri riuscivano a commerciare via mare.
- I Veneti erano commercianti di ambra.
- Lungo il corso del Po si insediarono i coloni greci.
- I Terramaricoli vivevano in abitazioni poste su palafitte.
- La civiltà villanoviana è famosa per le tavole eugubine.
- I Sardi costruivano torri in pietra dette nuraghi.
- I Fenici fondarono colonie nell'Italia meridionale.
- La maggior parte delle civiltà italiche praticava l'agricoltura e l'allevamento.
- Gli Iapigi erano abili guerrieri, che usavano lance e spade.
- I Sanniti percorrevano i tratturi per spostare le pecore dai pascoli di montagna a quelli di pianura.



L'ANTICA ITALIA: LA CIVILTÀ ETRUSCA

1 Indica con **X** solo le affermazioni riguardanti gli Etruschi.

Gli Etruschi...

- nell'VIII secolo a.C. abitavano in un'area geografica delimitata dall'Arno e dal Tevere.
- vivevano in città costruite su palafitte.
- provenivano dai Balcani.
- nel periodo di massima espansione conquistarono tutta l'Italia.
- riuscirono a bonificare aree paludose in Pianura Padana e sul Tirreno.
- avevano a disposizione molte risorse naturali, come ferro, rame e piombo.
- non erano abili navigatori, e preferirono dedicarsi al commercio via terra.
- nel III secolo a.C. estesero il loro dominio anche su Roma.
- veneravano principalmente tre dèi: Tinia, Ade e Menerva.
- costruivano tombe a pianta circolare o scavate nella roccia.
- seppellivano il defunto assieme a gioielli, cibo e suoi oggetti personali.

2 Cancella i nomi di città non fondate dagli Etruschi.

- | | | |
|------------------------------------|----------------------------------|------------------------------------|
| <input type="checkbox"/> Bologna | <input type="checkbox"/> Mantova | <input type="checkbox"/> Tebe |
| <input type="checkbox"/> Villanova | <input type="checkbox"/> Milano | <input type="checkbox"/> Perugia |
| <input type="checkbox"/> Gubbio | <input type="checkbox"/> Roma | <input type="checkbox"/> Tarquinia |

3 Collega la parola alla sua definizione.

DIVINAZIONE	Ceramica di colore nero lucido, prodotta sapientemente dagli Etruschi.
ARÙSPICE	Ognuna delle quattro parti in cui veniva divisa una città etrusca.
LUCUMONE	Sacerdote che, esaminando le interiora degli animali sacrificati, studiava il volere degli dèi.
BUCCHERO	Arte di interpretare il volere degli dèi osservando i fenomeni naturali.
QUARTIERE	Re-sacerdote di una città etrusca.
TUSCO	Altro nome con cui era chiamato un Etrusco dai popoli vicini.

L'ANTICA ITALIA: LA CIVILTÀ ETRUSCA

4 Unisci la definizione corretta.

La parola *necropoli*

deriva da due termini di origine greca: *nekros*, che significa “ombra”, e *polis*, che significa “città”. Significa quindi “città all’ombra”.

deriva da due termini di origine greca: *nekros*, che significa “nero”, e *polis*, che significa “città”. Significa quindi “città nera”.

deriva da due termini di origine greca: *nekros*, che significa “morto”, e *polis*, che significa “città”. Significa quindi “città dei morti”.

5 Osserva l'immagine e rispondi.

- Cosa rappresenta l'immagine? Da essa è possibile ricavare alcune informazioni sul modo di vivere e sulla società degli Etruschi. Scrivi brevemente quali.



6 Osserva l'immagine e rispondi.

- L'immagine a lato rappresenta una particolare struttura diffusa tra gli Etruschi, utilizzata specialmente nelle porte delle città. Come si chiama?
- Di quale materiale è costituita?
- Come si chiama l'elemento centrale a forma di cuneo?



ROMA: DALLE ORIGINI ALLA REPUBBLICA

1 Riordina gli eventi che descrivono la leggenda delle origini di Roma, numerandoli in ordine crescente. Attento: ci sono due eventi errati, pertanto indicali con X.

- Marte si innamora di Rea Silvia.
- Enea fugge dalla città di Troia e giunge nel Lazio.
- Re Numitore uccide il fratello Amulio.
- Una lupa allatta Romolo e Remo.
- Remo viene ucciso da Romolo.
- Romolo e Remo vengono messi in una cesta, che viene poi lasciata nel Tevere.
- Il padre di Enea fonda Alba Longa.
- Romolo fonda una nuova città di nome Roma.

2 Per ogni evento colora la data corretta.

Roma viene fondata.	→	753 a.C.	27 a.C.	509 a.C.
Roma diventa una Repubblica.	→	27 a.C.	476 d.C.	509 a.C.
Re Tarquinio il Superbo viene cacciato da Roma.	→	753 a.C.	476 d.C.	509 a.C.
Roma diventa un Impero.	→	476 d.C.	27 a.C.	753 a.C.
Romolo è il re di Roma.	→	753 a.C.	476 d.C.	509 a.C.

3 Indica se le affermazioni sono Vere (V) o False (F).

- Gli ultimi re di Roma furono di origine etrusca.
- Durante la Monarchia le famiglie più potenti erano quelle di origine greca.
- Il re veniva eletto tra i comandanti dell'esercito.
- Il re era il capo religioso della città.
- Il senato era controllato dal re e non aveva il diritto di opporsi alle sue decisioni.
- Il senato era formato dagli anziani proprietari terrieri.
- Con la Repubblica scomparve la figura del re.
- Il governo della Repubblica era affidato a senatori e magistrati.
- I consoli erano addetti al controllo dello stato delle costruzioni pubbliche.

V F

V F

V F

V F

V F

V F

V F

V F

V F

4 Completa il testo con le seguenti parole.

*maschi • diritti • terrieri • liberti • fondatori • società • classe • debiti •
prigionieri • liberi • distribuzione • magistrati*

La romana al tempo della Repubblica si divideva in schiavi, plebei e patrizi.

Gli schiavi erano di guerra, malfattori o persone che non avevano pagato i loro Essi non possedevano ma la loro vita dipendeva dal proprio padrone. Tuttavia potevano ottenere in dono da quest'ultimo la libertà o potevano comprarla. In tal caso divenivano

La dei plebei era composta da commercianti, contadini e artigiani. Erano cittadini, che pagavano le tasse ma non avevano il diritto di prender parte al governo. In caso di guerra dovevano prestare servizio militare, abbandonando le loro attività, però non potevano partecipare alla spartizione del bottino di guerra.

I patrizi erano i discendenti dei *patres*, i, assieme a Romolo, di Roma. Erano grandi proprietari e formavano la classe sociale più ricca e importante. Potevano infatti ricoprire la carica di e partecipare alle assemblee di governo. In caso di necessità e se adulti, dovevano prestare servizio nell'esercito ed erano coinvolti nella delle terre conquistate.

5 Collega la parola alla sua definizione.

PONTEFICE
MASSIMO

Dea della religione romana, corrispondente ad Atena.

GENS

Dio della religione romana, corrispondente a Zeus.

GIANO

Uno dei sette colli di Roma, su cui, secondo la leggenda, Roma fu fondata.

MINERVA

Gruppo di famiglie patrizie aventi lo stesso antenato.

GIOVE

Capo dei sacerdoti, incaricato di definire i giorni fasti e nefasti sul calendario.

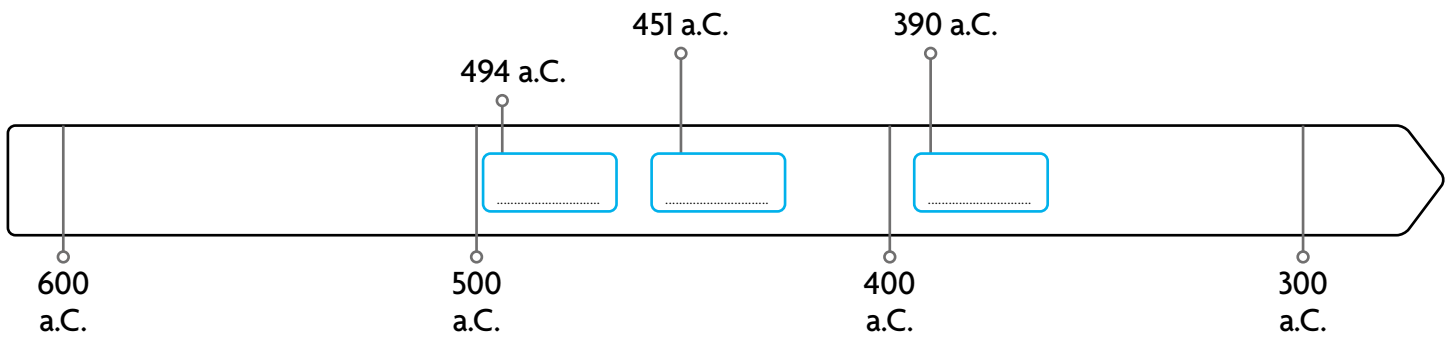
PALATINO

Dio romano della pace e della guerra, avente due volti.

ROMA: DALLE ORIGINI ALLA REPUBBLICA

6 Abbina l'evento alla corrispondente data sulla linea del tempo. Usa i numeri.

- 1** Le leggi vengono incise su dodici lastre di bronzo.
- 2** I plebei si ribellano e si radunano sull'Aventino.
- 3** I plebei ottengono il riconoscimento dei tribuni della plebe.
- 4** I Galli distruggono le XII tavole.
- 5** Menenio Agrippa interviene e convince i plebei.



7 Osserva l'immagine e rispondi.

- Cos'è l'oggetto in foto? Come e da chi veniva usato?

.....

.....

.....

.....

.....



8 Traccia sulla carta, usando colori diversi:

- il territorio romano precedente alla prima guerra punica;
- il territorio romano dopo la terza guerra punica.



9 Indica se le affermazioni sono Vere (V) o False (F).

- Le prime guerre Roma le combatté con i vicini popoli degli Etruschi e dei Latini. V F
- Contro i Sanniti Roma non ebbe mai conflitti, ma strinse con essi solo alleanze. V F
- Dopo la vittoria su Pirro i Romani controllavano l'Italia e la Grecia. V F
- Puni era il nome con cui i Romani chiamavano gli abitanti della Grecia. V F
- Cartagine era una colonia della Magna Grecia. V F
- La prima guerra punica scoppiò nel 264 a.C. V F
- La causa di essa fu il controllo della Sicilia, fondamentale per i commerci attraverso il Mediterraneo. V F
- Essa si concluse con la distruzione della flotta romana alle Isole Egadi. V F
- La seconda guerra punica iniziò dopo che Annibale, comandante dei Cartaginesi, conquistò Sagunto, una città in Spagna alleata dei Romani. V F
- Annibale riuscì ad attraversare le Alpi e a saccheggiare Roma. V F
- La seconda guerra punica terminò con la battaglia di Canne. V F
- Nel 146 a.C. Cartagine venne rasa al suolo. V F

10 Cerchia la parola corretta.

La Repubblica entrò in crisi: i **cavalieri** • **legionari** non accedevano alle cariche pubbliche di rilievo, i piccoli proprietari terrieri non reggevano la concorrenza dei **popolari** • **latifondisti** e i contadini erano sostituiti dagli schiavi. I **tribuni della plebe** • **consoli** Tiberio e Caio Gracco proposero allora una riforma agraria a svantaggio dei **popolari** • **latifondisti**. Questi però li fecero assassinare, scatenando così le **guerre di conquista** • **guerre civili**. Esse terminarono nell'82 a.C. con l'avvento della dittatura di **Silla** • **Mario**, che attuò riforme a favore dei **popolari** • **latifondisti**.

11 Cosa significa la parola "triumvirato"?

12 Indica con X solo le affermazioni su Giulio Cesare che non sono corrette.

- Come generale Giulio Cesare riuscì a conquistare la Gallia.
- Dopo la morte di Crasso, Giulio Cesare contese il potere a Gneo Pompeo.
- Cesare godeva dell'appoggio delle sue legioni e degli ottimati.
- Sconfitto il suo avversario, Cesare fu nominato dittatore a vita e *imperator*.
- Era amato dai plebei per le riforme che attuò in loro favore.
- Estese il diritto di cittadinanza a tutti gli abitanti delle province.
- Ordinò importanti opere pubbliche di bonifica e di ricostruzione.
- Nel 44 a.C. fu assassinato per paura che volesse instaurare la Repubblica.

ROMA: L'IMPERO

- 1** Indica con **X** quali furono le cause che portarono alla creazione dell'Impero romano.

L'Impero romano fu creato perché...

- il senato voleva cancellare le conquiste militari di Giulio Cesare.
- ci furono guerre civili dopo la morte di Giulio Cesare.
- il senato voleva finalmente un periodo di pace.
- la popolazione romana chiedeva di essere governata da una sola persona.
- Ottaviano era il figlio adottivo ed erede di Cesare.
- Marco Antonio non era un grande generale o politico.
- i plebei volevano riforme a loro favore.

2 Rispondi.

- Quando venne istituito ufficialmente l'Impero romano?

.....

- Definisci il significato di *imperator*.

.....

- Quali erano i poteri dell'imperatore Ottaviano?

.....

- Cosa significa Augusto?

.....

3 Collega il luogo alla sua descrizione.

CIRCO MASSIMO

Era il luogo di culto di "tutti gli dèi".

PANTHEON

Era sede di battaglie navali o lotte tra gladiatori.

TERME DI CARACALLA

Era un insieme di appartamenti e generalmente si trovava nei quartieri meno ricchi.

ANFITEATRO FLAVIO

Era uno spazio pubblico utilizzato per assicurare l'igiene degli abitanti di Roma.

ACQUEDOTTO

Ospitava le corse tra cavalli.

INSULA

Era formato da arcate e funzionava grazie al dislivello tra la sorgente e la città.

4 Indica con X cosa accadde agli inizi dell'Impero romano.

Agli inizi dell'Impero romano...

- si ebbe un periodo di pace.
- i governatori pensavano a riscuotere le tasse e ad arricchirsi.
- le popolazioni conquistate non potevano mantenere le proprie tradizioni.
- ogni provincia aveva le proprie leggi.
- i legionari divennero sempre più fedeli al proprio comandante.
- ci fu una notevole ripresa economica.
- l'italiano era la lingua ufficiale.
- la produzione agricola crebbe poiché ogni regione poteva concentrarsi sulle coltivazioni più favorevoli al proprio clima e al proprio territorio.
- i quartieri di molte città furono ricostruiti e migliorati.
- ogni regione realizzava prodotti artigianali sfruttando le materie prime del proprio territorio.
- il commercio poté svilupparsi solo via terra, ma non via fiume o via mare.
- le strade erano generalmente ricoperte da lastre di pietra e permettevano un rapido spostamento dell'esercito e una grande circolazione delle merci.
- l'uso della moneta fu abbandonato, per aiutare l'integrazione e la pace tra tutti i popoli.

5 Indica se le affermazioni sono Vere (V) o False (F).

- Gesù nacque in Giudea, una regione che a quel tempo non faceva parte dell'Impero. V F
- Gesù predicava l'amore tra gli uomini e la promessa di una vita eterna nel regno di Dio. V F
- Gli apostoli erano coloro che furono scelti da Gesù stesso e seguirono i suoi insegnamenti. V F
- All'inizio il Cristianesimo si diffuse principalmente tra i patrizi romani e i ricchi mercanti. V F
- Le Chiese erano le prime comunità in cui si riunivano i fedeli cristiani. V F
- I cristiani iniziarono a subire persecuzioni perché si rifiutavano di pagare le tasse a Roma. V F
- Erano inoltre contrari al culto dell'imperatore. V F
- Si dedicavano ad assistere gli ammalati e i poveri e si rifiutavano di prestare servizio militare. V F
- Erano visti come un pericolo per il potere imperiale. V F
- Ai tempi di Diocleziano venivano anche incolpati ingiustamente di crimini. V F
- L'imperatore Costantino rese legali le persecuzioni contro i cristiani. V F
- Verso il IV secolo d.C. gli imperatori si resero conto che il Cristianesimo era ormai diffuso in tutta la società. V F

ROMA: L'IMPERO

6 Osserva l'immagine e rispondi.

- La foto rappresenta i luoghi in cui venivano sepolti i cristiani. Come si chiamavano questi luoghi? Come erano fatti? Perché i cristiani vi seppellivano i morti?



7 Quale imperatore nel 380 a.C. emise l'Editto di Tessalonica?

8 Cosa dichiarava questo Editto?

9 Completa il testo con le seguenti parole.

*tribù • agricoltura • soldati • guerra • campi • botti • Reno • anfore •
capanne • barbari • Wotan • Thor • Germani • staffe*

Oltre il confine nord-orientale dell'Impero (delimitato dal e dal Danubio) vivevano popoli germanici, dai Romani chiamati, cioè "balbuzienti", perché non parlavano il latino.

Questi popoli erano divisi in libere che, solo in caso di emergenza, si riunivano sotto la guida di un re.

Vivevano in di legno e paglia, che venivano abbandonate non appena i circostanti producevano scarsi raccolti.

Oltre a una piuttosto arretrata, i Germani si dedicavano alla caccia, all'allevamento, all'artigianato e alla

Erano politeisti: gli dèi più importanti erano, dio del tuono (corrispondente a Zeus), e, dio della guerra.

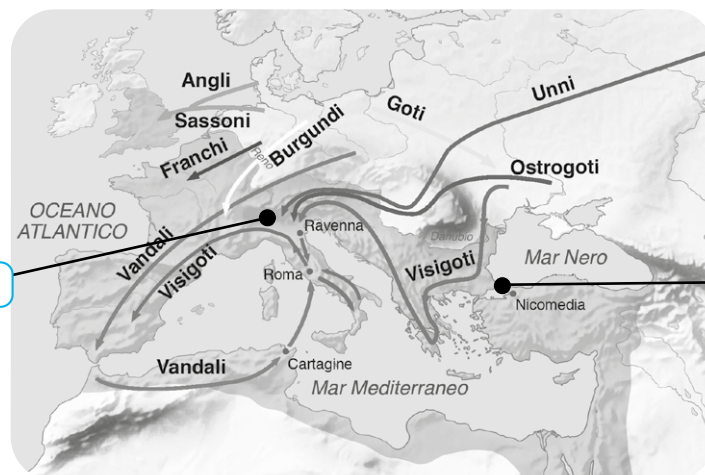
Per stare più comodi e sicuri a cavallo, inventarono la sella, le e i pantaloni. A loro si deve anche l'idea di trasportare il vino in di legno, al posto delle delicate romane.

A partire dal III secolo molti erano alleati di Roma e, col tempo, iniziarono a lavorare nell'Impero come contadini o

10 Indica tra le seguenti affermazioni quali furono le cause della crisi dell'Impero.

- Fu concessa la libertà di culto.
- Numerose tribù germaniche si convertirono al Cristianesimo.
- Per la difesa dell'Impero spesso si ricorreva a mercenari.
- La difesa dell'Impero richiedeva grandi spese militari.
- La carica di imperatore non si trasmetteva in maniera ereditaria.
- I contadini si impoverivano sempre più, a causa dell'aumento delle tasse, e abbandonavano i campi.
- Si verificarono un aumento dei prezzi, la diffusione di malattie e periodi di carestie.

11 Completa la carta con i nomi delle città e rispondi.



- Cosa indica la carta?
- Cosa indicano le due aree evidenziate?

.....

.....

.....

12 Scegli il completamento corretto della frase.

La parola "tetrarchia" indica il

- governo esercitato da quattro sovrani
- governo esercitato da tre sovrani
- governo esercitato da due sovrani
- governo esercitato da un imperatore

Nel 476 con la deposizione di Romolo Augustolo si ebbe

- il saccheggio di Roma a opera dei Vandali
- il saccheggio di Roma a opera degli Unni
- il crollo dell'Impero romano d'Occidente
- il crollo dell'Impero romano d'Oriente

1 Indica con **X** se le affermazioni sono Vere (V) o False (F).

- Le Alpi sono colline che si estendono nell'Italia settentrionale. V F
- Gli Appennini formano una catena montuosa che percorre l'Italia da nord a sud. V F
- Il clima nella Pianura Padana è continentale: l'inverno è nebbioso e freddo, l'estate è calda e afosa, la primavera e l'autunno sono piovosi. V F
- In Italia il clima nel Sud e nelle isole è prevalentemente mediterraneo: inverni miti, estati calde e secche, con periodi di siccità. V F
- I più grandi laghi italiani si trovano al Sud. V F
- In Italia non sono presenti ghiacciai. V F
- Le coste italiane sono solamente basse e sabbiose. V F
- Il Mar Ionio bagna il Nord dell'Italia. V F
- I fiumi appenninici generalmente hanno un corso lungo e grande abbondanza di acqua. V F
- Il Po forma alla sua foce un esteso delta. V F
- Tutte le acque dei fiumi sono usate per irrigare i campi e produrre elettricità. V F
- Nelle zone di pianura italiane generalmente è sviluppata l'agricoltura e sorgono industrie specializzate. V F

2 Completa.

- Scrivi il nome di un arcipelago italiano:
- Scrivi il nome di una vetta italiana:

3 Collega ciascuna parola alla sua definizione.

TRANSUMANZA

Quantità di acqua trasportata dal fiume, in un certo tempo in un punto preciso.

BONIFICA

Tunnel scavato nella roccia, che attraversa un'altura.

TERRAZZAMENTO

Insieme di opere per prosciugare terreni paludosi e renderli produttivi.

TRAFORO

Impianto con grandi vasche in cui dall'acqua del mare si ottiene il sale.

PORTATA

Sistemazione di un terreno naturale in forte pendio in ripiani artificiali.

SALINA

Spostamento delle greggi dai pascoli alle pianure costiere, agli inizi dell'autunno.

4 Osserva la carta e indica con X le risposte.



• Che tipo di carta è?

- Fisica Politica Tematica

• In essa quali elementi sono rappresentati?

- I nomi delle regioni Le attività agricole
 I confini delle regioni Le industrie
 Le montagne Il tipo di clima
 Le pianure I mari
 I paralleli Le città principali
 I meridiani Gli aeroporti

5 Il settore primario è...

- l'insieme delle attività economiche che trasformano le materie prime in semilavorati e prodotti finiti
- l'insieme delle attività economiche che non producono oggetti ma sono al servizio di persone e imprese
- l'insieme delle attività economiche che dalle risorse naturali ottengono le materie prime

6 Collega il luogo alla corrispondente attività.

industria dolciaria

porto turistico

stabilimento tessile

industria casearia

stabilimento metalmeccanico

stabilimento siderurgico

stabilimento chimico

porto commerciale

scambio merci

produzione di caramelle

produzione di vernici

produzione di macchinari

lavorazione del ferro

produzione di formaggi

trasporto passeggeri

produzione di vestiti

L'ITALIA NEL MONDO

1 Il continente a ovest dell'Europa è

2 Cerchia la parola corretta.

L'Unione europea è un'organizzazione **nazionale** • **internazionale** formata da Stati europei.

Uno dei suoi scopi è promuovere la pace, la libertà e **le differenze** • **l'uguaglianza** tra gli uomini.

Per garantire una migliore qualità di vita, permette il libero trasferimento di merci e cittadini **all'interno** • **all'esterno** del proprio territorio.

Adotta un'unica moneta, l'euro, per **tutti i** • **gran parte dei** Paesi membri.

Consiglio, Parlamento e **Commissione** • **Carta europea dei diritti** sono i suoi principali organi di governo.

3 Completa il testo con le seguenti parole.

Consiglio • giudiziario • Repubblica • Regioni • Presidente • Costituzione • Province • Svizzera • Parlamento • Stato • Senato • Governo

Lo Stato italiano è una democratica, che confina a est con la Slovenia, a nord con l'Austria e la, a ovest con la Francia.

Le istituzioni sono stabilite dalla, che è la legge fondamentale dello Stato.

L'insieme dei rappresentanti forma il

Esso esercita il potere legislativo, cioè ha il compito di proporre e approvare le leggi.

È composto dal e dalla Camera dei Deputati.

Il potere esecutivo è esercitato invece dal e consiste nel far applicare le leggi.

Esso è formato dai ministri e dal Presidente del

Il potere spetta alla Magistratura, che ha quindi il compito di controllare il rispetto delle leggi ed eventualmente punire chi le viola.

Il della Repubblica controlla il rispetto della Costituzione da parte delle istituzioni.

Per una corretta amministrazione del territorio l'Italia è suddivisa in enti locali: le Regioni, le, le Città metropolitane e i Comuni.

In tutto le sono venti e sono gli enti locali più grandi. Ognuna è dotata di un capoluogo e può emanare leggi da applicare al proprio territorio che non siano contrarie a quelle dello

LE REGIONI SETTENTRIONALI

1 Con quale regione italiana confina a nord la Valle d'Aosta?

- La Liguria
 Il Piemonte
 Nessuna
 La Sardegna

2 Scrivi almeno un prodotto e un'attività tipici della Valle d'Aosta.

.....

.....

.....

3 Leggi le domande sul Piemonte e rispondi.

- Qual è il fiume principale del Piemonte?
- Come si chiama il suo lago più importante?
- Qual è il capoluogo della regione?

.....

.....

.....

4 Indica se le seguenti affermazioni sul Piemonte sono Vere (V) o False (F).

- Il Piemonte confina a ovest con la Lombardia.
- Il territorio piemontese è percorso sia dalle Alpi sia dagli Appennini.
- Le Langhe e il Monferrato sono montagne famose della regione.
- Il Piemonte si affaccia sul Mar Ligure.
- È una delle regioni con meno abitanti d'Italia.
- Il clima è mite in tutto il territorio e per tutto l'anno.
- L'agricoltura piemontese è avanzata e produttiva.
- I fiumi sono una risorsa molto sfruttata.
- I vigneti piemontesi producono vini apprezzati in tutto il mondo.
- Un'azienda storica della regione è la FIAT.
- Essa è famosa per la produzione di autoveicoli.
- Ad Alba vengono realizzate pregiate stoffe di cotone.

V F

V F

V F

V F

V F

V F

V F

V F

V F

V F

V F

V F

LE REGIONI SETTENTRIONALI

5 Indica con **X** la risposta giusta.

Quale dei seguenti gruppi indica le città principali della Liguria?

- Genova, Imperia, Savona, L'Aquila
- Genova, Imperia, Gorizia, L'Aquila
- Genova, Vicenza, Savona, Riviera
- Genova, Savona, Imperia, La Spezia

La Riviera di Ponente è

- il tratto di Mar Ligure a est di Genova
- il tratto di Mar Ligure a ovest di Genova
- La catena montuosa che attraversa la Liguria
- La catena collinare che attraversa la Liguria

Dove vengono utilizzati i terrazzamenti?

- Nel turismo
- In mare
- In aeroporto
- In agricoltura

I fiumi liguri che si riversano in mare sono

- brevi e a carattere torrentizio
- lunghi e a carattere torrentizio
- lunghi e abbondanti
- brevi e abbondanti

6 **Sottolinea di giallo le colline e di blu i fiumi e i laghi della Lombardia.**

Brianza • Prealpi • Gran Sasso • Lago Trasimeno • Ticino • Lago Maggiore • Adda • Po • Lago di Garda • Dora Baltea • Sele • Lago d'Iseo • Lago di Como • Val Camonica • Chianti • Monte Rosa • Colle di Cadibona • Oltrepò Pavese • Lago di Bolsena

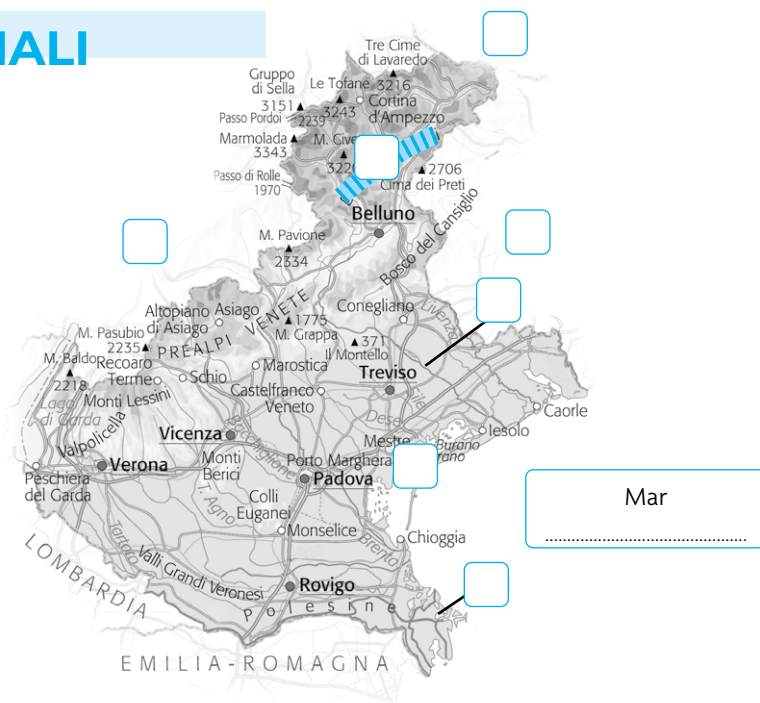
7 Indica con **X** solo le affermazioni corrette riguardanti la Lombardia.

- La Lombardia confina a ovest con il Piemonte.
- La Lombardia è la regione con più abitanti d'Italia.
- Il suo capoluogo è Brescia.
- È percorsa da una fitta rete di strade, autostrade e ferrovie.
- Dispone solamente di un aeroporto internazionale.
- L'agricoltura non è molto diffusa, a causa del suolo poco fertile.
- L'allevamento di bovini rappresenta un'attività importante.
- Il settore industriale ha subito una recente crisi e ora non ha più molti occupati.
- Vi sono aziende nell'ambito del design industriale, della meccanica di precisione e della moda.
- Il commercio ha grande rilievo nell'economia lombarda.
- Una fiera famosa nel mondo è il Salone del mobile.
- Il turismo è una grande risorsa grazie alle località alpine, alle bellezze paesaggistiche e alle ville storiche.

LE REGIONI SETTENTRIONALI

8 Inserisci il numero al posto giusto e completa la carta.

- 1** Venezia
- 2** Po
- 3** Piave
- 4** Friuli-Venezia Giulia
- 5** Trentino-Alto Adige
- 6** Austria
- 7** Dolomiti



9 Segna con **X** le risposte ai quesiti.

È un'importante città d'arte veneta.	→	Belluno	Padova	Rovigo
Conosciutissima è la sua antica arena di epoca romana.	→	Murano	Verona	Belluno
È costruita su un arcipelago di tante piccole isole.	→	Venezia	Treviso	Rovigo
È una località famosa per l'artigianato del vetro soffiato.	→	Murano	Treviso	Cortina d'Ampezzo
Comune rinomato per la produzione di ceramiche.	→	Bassano del Grappa	Marghera	Vicenza

10 Leggi le frasi sul Trentino-Alto Adige e cancella l'alternativa sbagliata.

- Le città più importanti sono Trento e **Bolzano** • **Adige**.
- In Trentino viene praticata un'agricoltura **tradizionale** • **specializzata**.
- Si producono vari tipi di uva e grandi quantità di **mele** • **arance**.
- Dall'allevamento di suini si ricava lo **yogurt** • **speck**.
- Dallo sfruttamento del territorio si ricava il **petrolio** • **legname**.
- Si produce energia **idroelettrica** • **eolica**, che alimenta le industrie della regione.
- Il territorio presenta vari parchi **naturali** • **privati**.
- Importanti centri **turistici** • **balneari** sono Canazei, Riva del Garda, Madonna di Campiglio.

LE REGIONI SETTENTRIONALI

11 Indica con **X** solo le affermazioni corrette riguardanti il Friuli-Venezia Giulia.

- Il Friuli-Venezia Giulia è una regione attraversata dagli Appennini.
- Confina a sud con la Toscana.
- Confina a nord con l'Austria.
- È bagnata dal Mar Tirreno.
- Ha come capoluogo Trieste.
- Il clima è, a seconda delle zone, alpino, continentale e mite.
- È una regione a statuto speciale.
- Vi sono grandi acciaierie.
- Fiumi importanti sono il Tagliamento e l'Isonzo.
- Fiorenti sono i cantieri navali.
- Molto diffuse sono le cave di marmo.

12 Indica se le affermazioni sull'Emilia-Romagna sono Vere (V) o False (F).

- Il territorio dell'Emilia-Romagna è totalmente pianeggiante. V F
- Tutti i fiumi della regione sono affluenti del Po. V F
- Il clima lungo la fascia costiera è mite. V F
- Tutta l'Emilia-Romagna è densamente popolata. V F
- La regione è percorsa dalla via Emilia. V F
- Bologna è al centro delle vie di comunicazione stradale e ferroviaria italiane. V F
- Gli allevamenti di bovini e suini sono importanti per l'economia delle province di Modena e Parma. V F
- L'Emilia-Romagna è una regione con vari e importanti insediamenti industriali. V F
- Il turismo non è molto fiorente. V F
- Le fiere di Bologna e Rimini sono di grande richiamo e contribuiscono alle attività commerciali. V F
- Il Monte Titano fa parte dell'Emilia-Romagna. V F

13 Collega la parola alla sua definizione.

BORA

CARSO

SAN DANIELE

MARANELLO

PARMA

Altopiano al confine sud-est del Friuli-Venezia Giulia.

Sede della Ferrari, nei pressi di Modena.

Forte vento proveniente da nord-est.

Città emiliana nota per la produzione del parmigiano.

Prodotto tipico dell'allevamento suino friulano.

LE REGIONI CENTRALI

1 Collega il luogo in Toscana all'attività prevalente che in esso viene svolta.

COLLINE METALLIFERE

coltivazione di vigneti

LARDERELLO

estrazione di minerali

ALPI APUANE

turismo culturale

LIVORNO

estrazione del marmo

ISOLA D'ELBA

produzione di energia geotermica

COLLINE DEL CHIANTI

turismo balneare

PISA

produzione di imbarcazioni

2 Indica con **X** quali di queste affermazioni si riferiscono a Firenze.

- È il capoluogo della Toscana.
- Sorge sulle rive dell'Arno.
- È conosciuta per la sua torre pendente.
- Ha grandi centri termali.

- È dotata di un aeroporto internazionale.
- Ha un importante porto commerciale.
- È sede di un distretto industriale specializzato nelle calzature.

3 Indica se le affermazioni sulle Marche sono Vere (V) o False (F).

- Il territorio delle Marche è prevalentemente pianeggiante. V F
- Il Monte Vettore appartiene alla catena dei Sibillini. V F
- I fiumi delle Marche hanno un corso lungo e percorrono ampi spazi di pianura. V F
- Il Monte Conero è un promontorio a sud di Ancona. V F
- Sull'Appennino Umbro-Marchigiano il clima è caratterizzato da inverni brevi e poco nevosi. V F
- Il porto di Ancona è importante per il traffico di passeggeri. V F
- San Benedetto del Tronto ha un porto peschereccio sul Tirreno. V F
- I prodotti agricoli marchigiani più importanti sono frumento, olive, uva, frutta e barbabietola da zucchero. V F
- L'industria della carta non rientra tra le attività delle Marche. V F
- Il turismo è poco sfruttato. V F
- Sulle coste marchigiane è fiorente il turismo balneare. V F
- Urbino e Montefeltro sono rinomate città d'arte. V F

LE REGIONI CENTRALI

4 Completa il testo con le seguenti parole.

necropoli • colline • clima • tabacco • Tevere • Norcia • ferro • Terni • Perugia • turismo • tartufo • Trasimeno • Velino

Il territorio umbro nella parte orientale è occupato dall'Appennino Umbro-Marchigiano e in quella occidentale da

Il Tevere è il fiume più importante della regione; il fiume forma la Cascata delle Marmore. Vi è poi il Lago, che è il più esteso dell'Italia centrale. Il umbro è appenninico.

L'Umbria è una regione a basso numero di abitanti e la popolazione vive principalmente nelle zone di (il capoluogo), di Terni e nella valle del

L'agricoltura è molto sviluppata e permette la coltivazione di barbabietole da zucchero, girasoli e

La zona di Orvieto è caratterizzata dalla produzione di vino e olio, mentre quelle di e Spoleto dalla raccolta del nero, tipico prodotto umbro.

Grandi acciaierie si trovano a, ma ci sono anche industrie alimentari, tessili e meccaniche intorno a Perugia.

Rinomato è l'artigianato della ceramica e del battuto.

Il si concentra principalmente nelle città d'arte e ad Assisi; anche gli agriturismi attirano visitatori italiani e stranieri.

Nel territorio umbro sono state rinvenute varie etrusche.

5 Inserisci il numero al posto giusto e completa la carta.

Lago di

1 Umbria
2 Abruzzo
3 Toscana
4 Monti Sabini
5 Maremma Laziale

Mar
.....
(capoluogo)

LE REGIONI CENTRALI

6 Leggi le definizioni riguardanti il Lazio e cerchia le risposte corrette.

Maggiore aeroporto per numero di passeggeri:

Orio al Serio • Fiumicino • Malpensa

Importante porto passeggeri:

Civitavecchia • Anzio • La Spezia

Stato indipendente, sede del Papa:

San Marino • Città del Vaticano • Roma

Lago di origine vulcanica:

Lago di Bolsena • Lago di Garda • Lago Trasimeno

Sede di testimonianze etrusche, tra cui una necropoli:

Ciampino • Arezzo • Tarquinia

Formaggio tipico ottenuto da latte di pecora:

mozzarella • pecorino • fontina

Il settore economico con più occupati:

primario • secondario • terziario

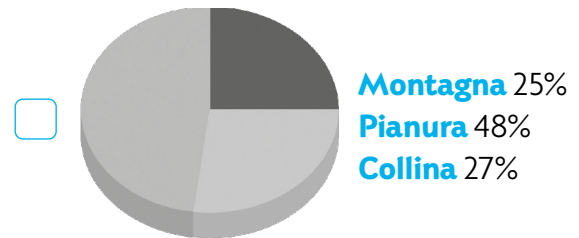
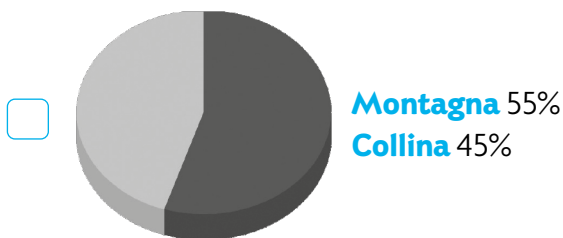
Centro di fama mondiale dell'industria cinematografica:

Ostia • Fiumicino • Cinecittà

7 In quale di questi luoghi è presente un importante osservatorio astronomico?

Gran Sasso Maiella Piana del Fucino Monte Miletto

8 Indica con X quale dei due grafici rappresenta il territorio del Molise.

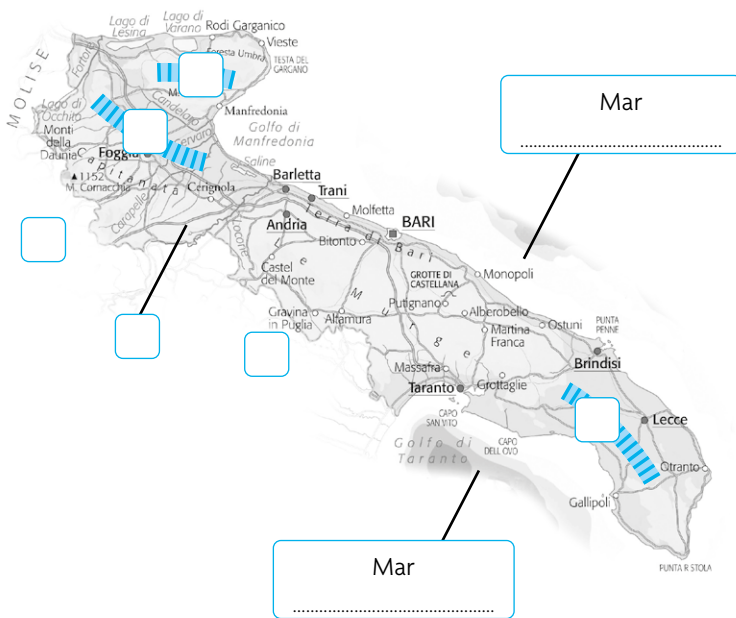


9 Indica se le affermazioni riguardano l'Abruzzo (A), il Molise (M) oppure entrambi.

- | | |
|--|--|
| <input type="checkbox"/> Nel suo territorio è presente il Massiccio della Maiella. | <input type="checkbox"/> In passato vi si praticava la transumanza. |
| <input type="checkbox"/> Si affaccia sul Mar Adriatico. | <input type="checkbox"/> Termoli è un suo importante centro per la produzione di automobili. |
| <input type="checkbox"/> Il suo capoluogo è Campobasso. | <input type="checkbox"/> Nel suo sottosuolo sono presenti giacimenti di metano. |
| <input type="checkbox"/> Il suo capoluogo è L'Aquila. | <input type="checkbox"/> È famosa per le campane di Agnone. |
| <input type="checkbox"/> Prodotti tipici sono la liquirizia e lo zafferano. | <input type="checkbox"/> Confina a nord con le Marche. |

LE REGIONI MERIDIONALI

1 Inserisci il numero al posto giusto e completa la carta.



- 1 Tavoliere
- 2 Salento
- 3 Gargano
- 4 Basilicata
- 5 Campania
- 6 Ofanto

2 In Puglia si coltiva principalmente un certo tipo di frumento:
il

3 In Puglia vi è un'elevata produzione di

- fiori in serra legno ceramiche sale

4 Leggi il seguente testo riguardante la Basilicata.

Sottolinea i quattro errori presenti e scrivine le correzioni a lato.

La Basilicata confina con Campania, Puglia e Calabria.
Il suo capoluogo è Matera.
Si affaccia sul Mar Tirreno e sul Mar Adriatico ed è
attraversata dall'Appennino Lucano.
La Piana di Metaponto è la zona pianeggiante più
ampia della regione.
La Basilicata è una regione molto popolosa e
presenta giacimenti di petrolio e metano.
Potenza è un'apprezzata meta turistica per le sue
particolari case scavate nel tufo: i Sassi.

.....
.....
.....
.....
.....
.....
.....
.....
.....
.....

LE REGIONI MERIDIONALI

5 Leggi le definizioni riguardanti la Campania e cerchia le risposte corrette.

Capoluogo della Campania:

Napoli • Salerno • Caserta

Vulcano quiescente del Golfo di Napoli:

Etna • Stromboli • Vesuvio

Uno dei principali fiumi della regione:

Volturno • Biferno • Tronto

Pianura non molto estesa della regione:

Piana del Sele • Campidano • Conca d'Oro

Sito archeologico di epoca greco-romana:

Cerveteri • Metaponto • Pompei

Bovino tipico campano:

bufala • caciotta • capra

6 Colora di rosso i prodotti tipici e di blu le principali industrie della Campania.

mozzarella	miele	speck	polenta
limone	Moscato	riso	pasta
pomodoro	mais	mela	grano duro
centrale eolica	raffineria	industria siderurgica	industria farmaceutica
cantiere navale	cava di marmo	industria meccanica	azienda agroalimentare
miniera di ferro	centrale geotermica	industria calzaturiera	industria elettronica

7 Indica se le affermazioni sulla Calabria sono Vere (V) o False (F).

- La Calabria è all'estremità sud della penisola italiana.
- Essa si affaccia a ovest sul Mar Tirreno e a est sul Mar Adriatico.
- La Calabria è attraversata in parte dalle Alpi.
- L'Aspromonte e la Sila sono importanti pianure della regione.
- I fiumi hanno corso breve ma portata regolare durante l'anno.
- Il clima è mediterraneo sia in pianura che sui rilievi.
- Il capoluogo è Catanzaro.
- Un prodotto tipico è il bergamotto: un agrume usato per profumi e cosmetici.
- Gli allevamenti di capre e pecore sono scarsamente diffusi.
- È largamente praticata la pesca, soprattutto del pesce spada.
- L'industria in Calabria è molto sviluppata.
- A Gioia Tauro è presente un porto commerciale.



LE REGIONI MERIDIONALI

8 Completa il testo.

La Sicilia è la regione più d'Italia ed è un' al centro del Mediterraneo.

Lo Stretto di la divide dall'Italia peninsulare. È bagnata, nello specifico, dal Mar di Sicilia, dal Mar Ionio e dal Mar

Il territorio è in gran parte occupato da colline e: queste ultime sono il prolungamento degli Appennini.

In Sicilia si erge il vulcano attivo più alto d'Europa: l'.....

Fanno parte della regione le Isole (dette anche Lipari), Egadi, Pelagie.

È una delle regioni popolate d'Italia ed è a statuto

Il suo capoluogo è

9 Colora di rosso i prodotti tipici e di blu le principali attività della Sicilia.

melone	mandorla	pistacchio	gianduiotto	arancia
Marsala	fontina	cacao	tonno	cipolla rossa
estrazione del sale	lavorazione del granito	produzione del vetro soffiato	artigianato della ceramica	produzione della seta
turismo archeologico	artigianato dell'argento	acquacoltura	lavorazione del petrolio	estrazione del piombo

10 Indica se le affermazioni sulla Sardegna sono Vere (V) o False (F).

- In Sardegna sono presenti vari arcipelaghi, tra cui quello della Maddalena. V F
- La Sardegna non è una regione a statuto speciale. V F
- Un apprezzato prodotto degli allevamenti ovini sardi è il pecorino sardo. V F
- Oltre a frumento, ortaggi, mandorle, olive, uva, in Sardegna si coltiva il mirto. V F
- Dalle querce della Gallura si ottiene il sughero. V F
- Le miniere di piombo, zinco, carbone e altri minerali sono un'importante fonte di reddito. V F
- Sono molto sfruttate le fonti di energia rinnovabile: eolica, idroelettrica, fotovoltaica, biomasse. V F
- Sono diffuse le industrie alimentari (formaggi, olio, vino) e di lavorazione del granito e del sughero. V F
- L'artigianato locale produce orologi, collane e vetri soffiati. V F
- La bellezza delle coste, del mare e dei paesaggi rende il turismo il settore più redditizio della regione. V F
- A Barumini è presente un eccezionale esempio di antico nuraghe. V F